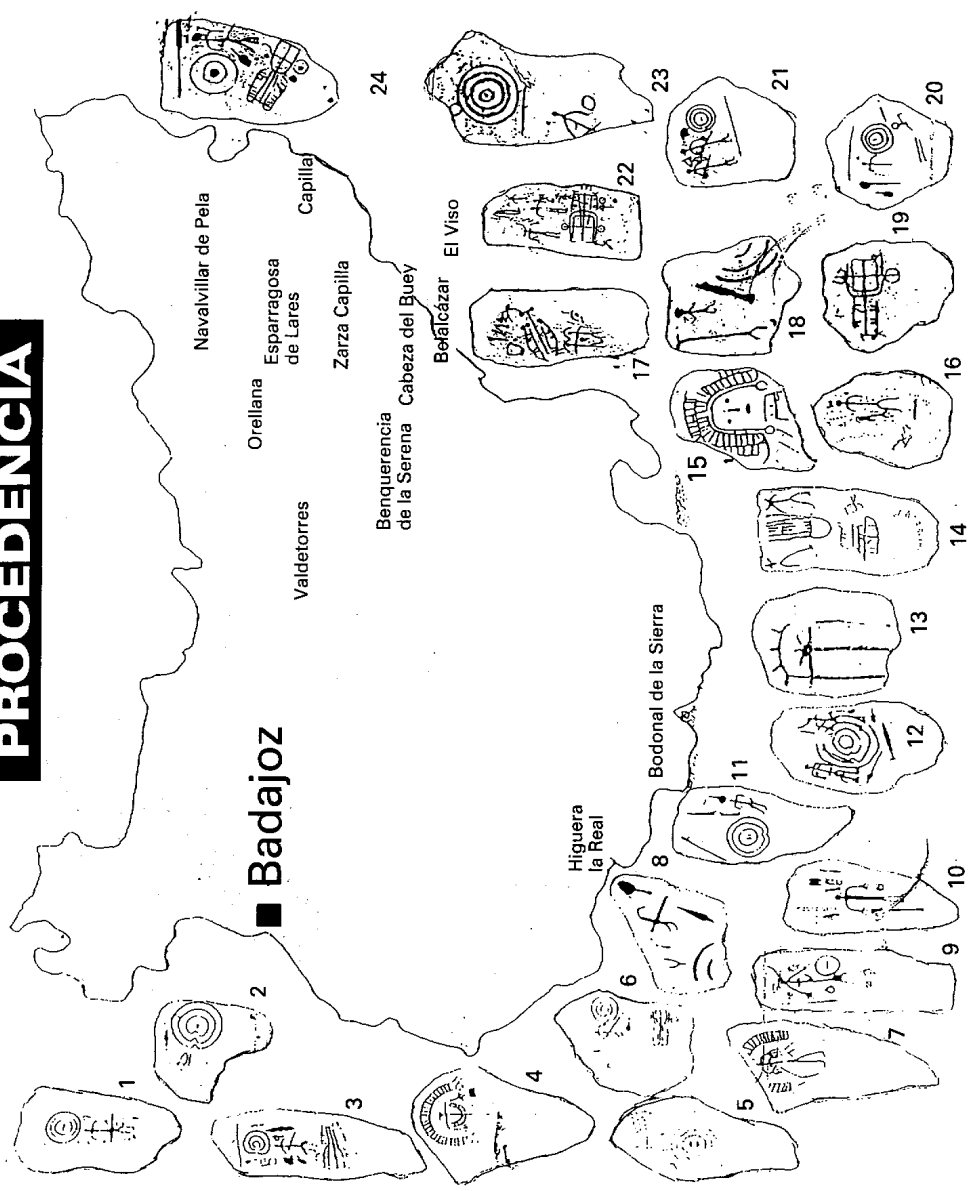


En este mapa tienes algunas estelas halladas en la provincia de Badajoz. Localiza y señala las que encuentres en el museo (Sala Prehistoria, Protohistoria y exposición del patio porticado)

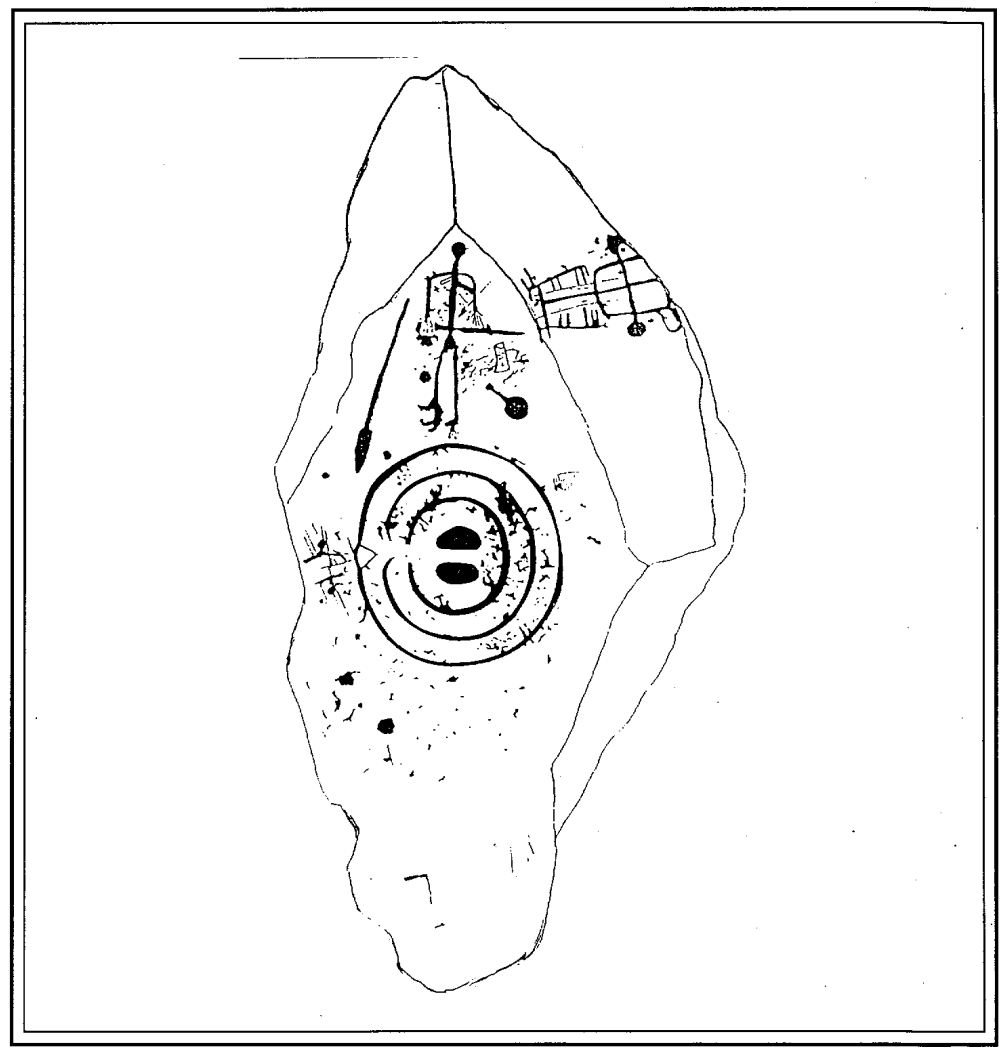
PROCEDENCIA



JUNTA DE EXTREMADURA
Consejería de Cultura y Turismo

Estelas de Guerrero I

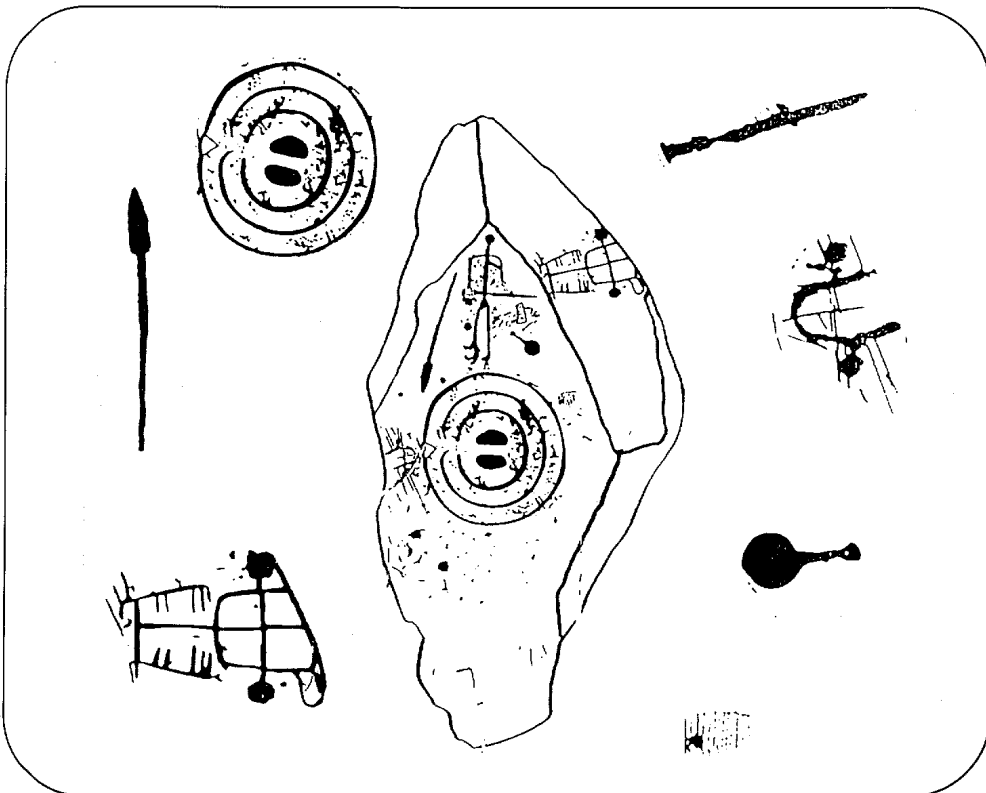
Nombre _____
Curso _____ Centro _____



Las estelas son grandes piedras grabadas de la Edad del Bronce. En ellas se representan figuras humanas y objetos como espadas, escudos, cascos, carros, peines ... No podemos conocer exactamente que función tenían. Se cree que pudieran marcar el lugar de enterramiento de algunas personas, delimitar algún territorio, representar a alguna tribu ...

Puedes ver todas las estelas que tenemos en el museo expuestas en la sala de Prehistoria, Protohistoria y el patio porticado.

Vamos a comenzar por conocer un poco la estela que tienes en la portada de la ficha. Está hecha en cuarcita. Aparte de una figura humana, hay otros objetos representados. Une con una línea cada objeto representado con su correspondiente en la estela y escribe su nombre _____



Una vez finalizado el recorrido por las estelas, dibuja la que más te haya gustado.

A continuación te damos una serie de palabras que debes encontrar en la sopa de letras:
LANZA; GUERRERO; ESPADA; ESCUDO; CABALLO; CARRO; ESPEJO y PEINE.
(Recuerda: pueden aparecer en horizontal, vertical, diagonal, al derecho o al revés)



Continúa el recorrido por el patio porticado, allí encontrarás una exposición de las estelas encontradas en la provincia de Badajoz. Ahora te indicamos una serie de elementos que debes localizar en ellas, sin olvidar fijarte también en las que están en la Sala de Protohistoria.




- Busca una pieza en la que aparece una MUJER. Escribe el nombre del lugar donde se encontró _____



- Ahora debes encontrar una estela en la que no aparece ningún GUERRERO. Escribe su lugar de procedencia _____



- El dibujo de la izquierda es un ESCUDO. Recorre la exposición y escribe cuántas veces aparece representado _____



- Dibuja un CARRO en el recuadro y anota el nombre de la estela en la que lo has encontrado _____



- Si te has fijado bien, las LANZAS y ESPADAS son muy frecuentes en las estelas. Escribe en cuantas de ellas aparecen los DOS elementos a la vez _____
Pon el lugar de procedencia de alguna de ellas _____




- Otro elemento característico de las estelas decoradas es el PEINE. Escribe dos ejemplos en las que aparece ca _____



- Al comienzo de la ficha te hemos pedido que identifiques los objetos de la estela. ¿Te acuerdas de cuál es el objeto representado a la izquierda? Pon su nombre _____
Localiza en cuantas estelas aparece representado _____




- El dibujo de la izquierda representa un ARCO. Busca alguna estela en la que esté representado y escribe dónde se encontró _____



- Ahora busca una estela en la que aparece un GUERRERO CON CASCO de cuernos y escribe el lugar donde apareció _____



- Anota cuántas veces aparecen dibujados ANIMALES en las estelas que has visto _____



- Por último, habrás visto que en dos estelas aparecen unos símbolos extraños que representan la primera escritura que conocemos, escritura tartésica. Escribe su lugar de procedencia _____