

Vocabulario

ANTROPOMORFO: figura con forma humana.

ESCRITURA TARTÉSICA: tipo de escritura semisilábica derivada de la fenicia y griega arcaica. Aunque se puede leer, su significado no ha sido identificado.

EXCEDENTE: cantidad de mercancías o dinero que sobrepasa las previsiones de producción o de demanda.

JERARQUÍA SOCIAL: se usa este término para hablar de una convivencia entre personas en la que a unos individuos se les considera de mayor rango o importancia que los demás. Habrá grupos sociales con más riqueza y poder que otros. Los guerreros por ejemplo tendrán una posición más elevada que los campesinos.

LIRA: instrumento musical usado por los antiguos, compuesto de varias cuerdas tensas en un marco que se pulsaban con las manos.

METALURGIA: arte de trabajar los minerales y de extraer los metales que contienen para ponerlos en disposición de ser elaborados.

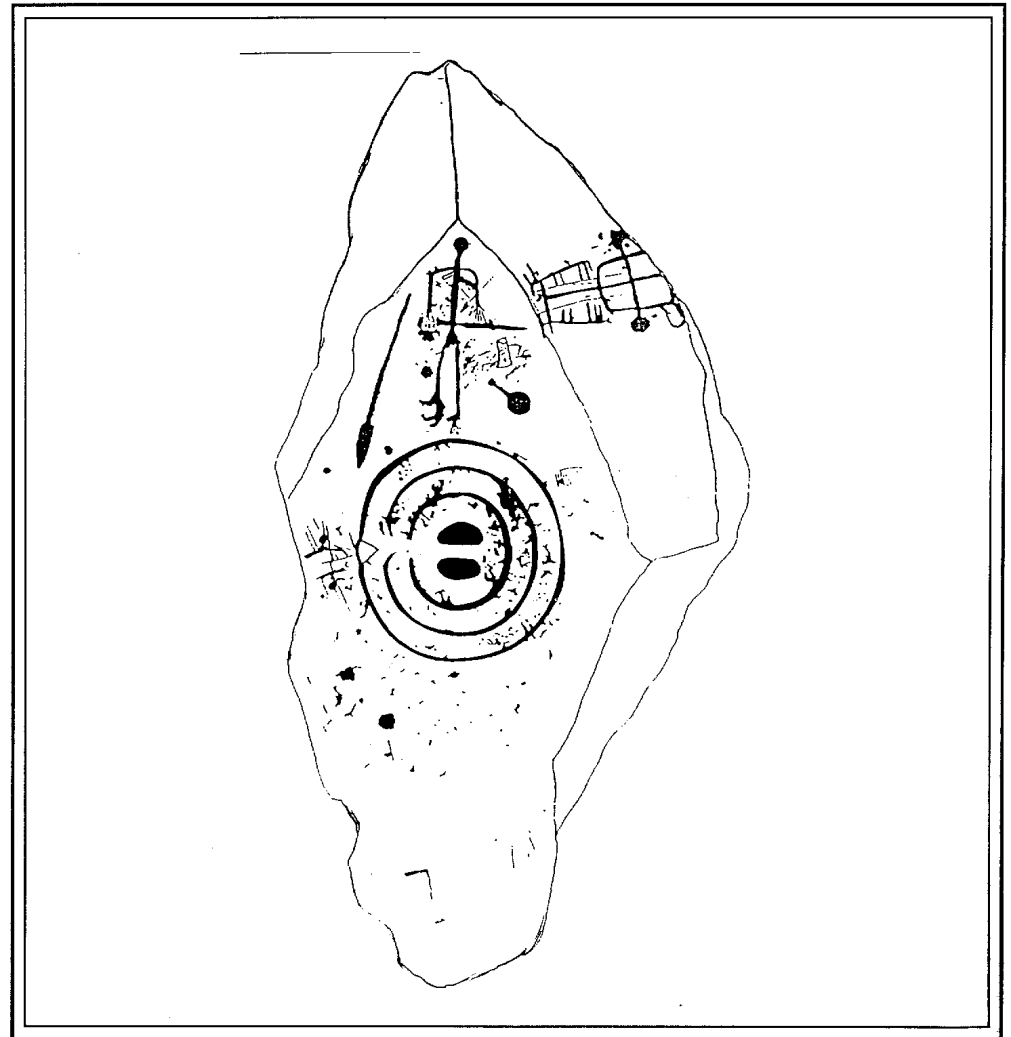
PECTORAL: objeto de adorno colgado al cuello muy similar a un collar.

ORIENTALIZANTE: perteneciente a la estética o cultura oriental.

PROTOHISTORIA: periodo de la vida de la humanidad posterior a la prehistoria de la que se poseen tradiciones originariamente orales. Es el periodo entre la prehistoria y la historia.

Nombre

Curso Centro



Comencemos por definir qué es una estela de guerrero: "Son losas de piedra de forma irregular con motivos grabados en una de sus caras. En ellas se representa de forma esquemática uno o varios personajes con lanzas, espadas y escudos rodeados de otro tipo de objetos (carro, espejo, peine, fibula). Aunque no han aparecido en un contexto arqueológico definido, se las interpreta como representaciones de una élite social.

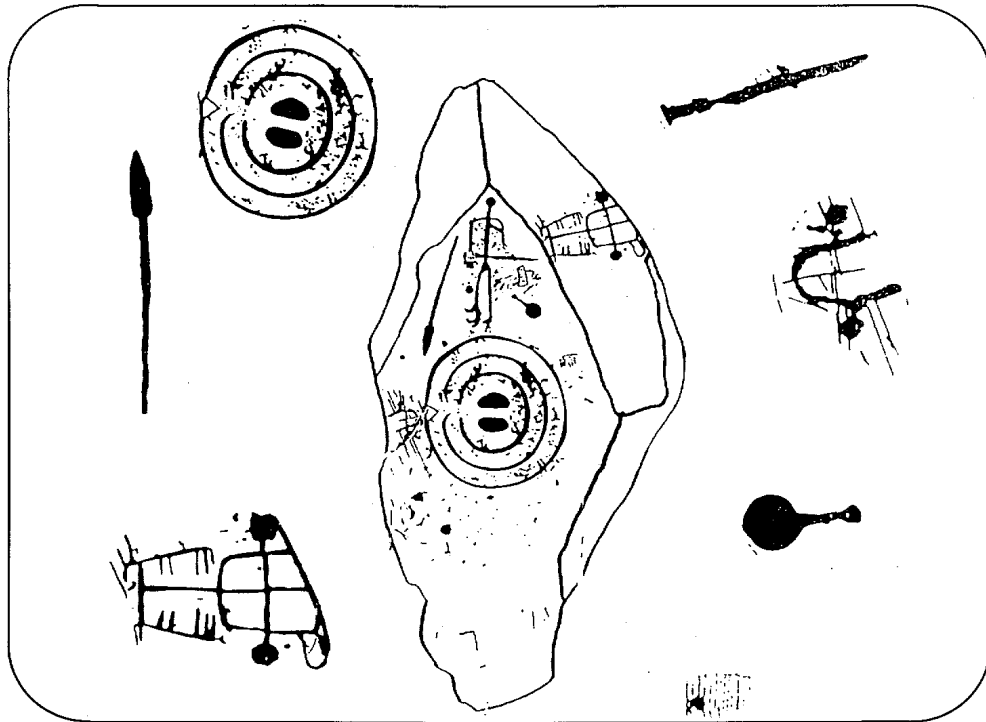
Se trata de un singular e interesante monumento de nuestra Protohistoria. De él y de lo que se representa apenas sabemos más de lo que podemos deducir de ésta y otras estelas semejantes que podrás ver tanto en la sala de protohistoria como en el patio porticado de fuera.

Vamos a comenzar por conocer un poco la estela que tienes en la portada. Veamos:

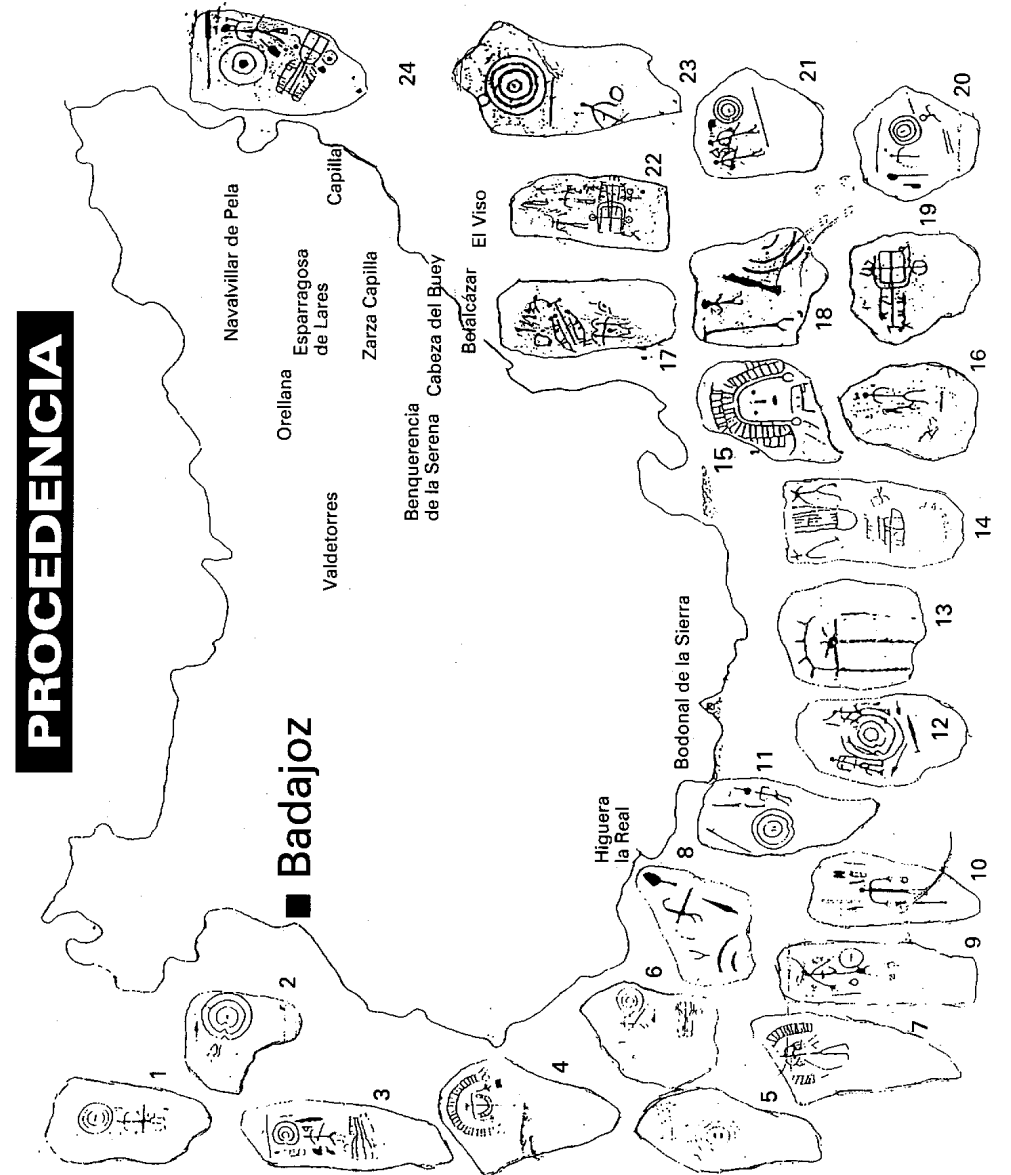
¿En qué clase de piedra está hecha?

¿Cuáles son sus medidas aproximadas?

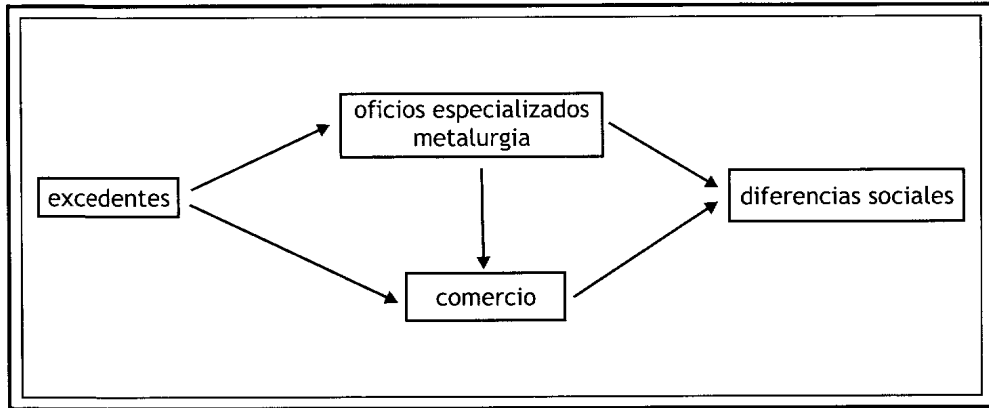
Ahora fíjate bien en esta estela. Aparte de una figura humana, hay otros objetos representados. Une con una línea cada objeto representado con su correspondiente en la estela.



En este mapa tienes algunas estelas halladas en la provincia de Badajoz. Localiza y señala las que encuentres en el museo (Sala Prehistoria, Protohistoria y exposición del patio porticado)



En las estelas se representa a un grupo social, los guerreros, pero además debes saber que en esta época surgieron otros oficios. Te lo explicamos en el siguiente cuadro.



En esta época cuando la gente obtuvo lo necesario de la agricultura para comer todos los días, lo que sobró (excelente) fue utilizado para venderlo a gente de otros poblados, entonces surgen grupos de personas que empiezan a dedicarse a esta actividad comercial y a otras nuevas como la artesanía, manufacturas, elaboración del tejido, etc. Hay una diferenciación de actividades y, por tanto, de grupos sociales. Habrá agricultores y ganaderos, artesanos, comerciantes y otros grupos dedicados a la guerra que es el que se representa sobre todo en las estelas.

- Además de en estos aspectos, la diferenciación social se observa en la forma de enterramiento; ¿cómo se muestran esas diferencias en dichos enterramientos?

- ¿Por qué crees que aparecen guerreros en la mayoría de estelas?

- ¿Crees que está relacionado con su posición social? ¿Sería importante esta posición dentro del grupo?

Continúa el recorrido por el patio porticado, allí encontrarás una exposición de las estelas encontradas en la provincia de Badajoz. Ahora te indicamos una serie de elementos que debes localizar en ellas.




- Busca una pieza en la que aparece una MUJER. Escribe el nombre del lugar donde se encontró _____



- En todas las estelas del patio aparecen figuras humanas, sobre todo guerreros (similares al del dibujo), excepto en una, localízala y escribe su lugar de procedencia _____



- El dibujo de la izquierda es un ESCUDO. Recorre la exposición y escribe cuántas veces aparece representado _____



- Dibuja un CARRO en el recuadro y anota el nombre de la estela en la que lo has encontrado _____



- Si te has fijado bien, las LANZAS y ESPADAS son muy frecuentes en las estelas. Escribe en cuántas de ellas aparecen los DOS elementos a la vez _____

Pon el lugar de procedencia de alguna de ellas _____



- Otro elemento característico de las estelas decoradas es el peine. Escribe dos ejemplos en las que aparezca _____



- Al comienzo de la ficha te hemos pedido que identifiques los objetos de la estela. ¿Te acuerdas de cuál es el objeto representado a la izquierda? Pon su nombre _____
Localiza en cuantas estelas aparece representado y escribe el nombre de la que más te haya gustado _____




- El dibujo de la izquierda representa un ARCO. Busca alguna estela en la que esté representado y escribe su lugar de procedencia _____



- Hay una representación de un guerrero con un CASCO DE CUERNOS. ¿Dónde apareció dicha estela? _____



- Por último, escribe el lugar donde se han encontrado tres estelas en las que aparecen dibujados animales _____



- Si has observado las estelas habrás visto que en dos de ellas aparece una inscripción en escritura tartésica. Escribe su lugar de procedencia _____

Para finalizar con la relación de elementos que aparecen en ellas vas a dividirlos en dos columnas: una para identificar las armas y otras en la que anotarás los que representan prestigio social.

ARMAS

OBJETOS DE PRESTIGIO SOCIAL

Una vez finalizado el recorrido por las estelas, comenta cuál te ha llamado más la atención y ¿por qué crees que son importantes estas manifestaciones artísticas?

A continuación te damos una serie de términos que debes encontrar en la sopa de letras **LANZA; GUERRERO; ESPADA; ESCUDO; CABALLO; CARRO; ESPEJO;** y **PEINE.** (Recuerda pueden aparecer en horizontal, vertical, diagonal, al derecho o al revés).

A	S	D	G	U	E	R	R	E	R	O	P	T
F	I	L	E	A	T	Q	P	S	X	Z	C	Y
B	A	C	E	D	F	E	S	P	A	D	A	X
E	G	A	S	U	E	Y	E	E	T	M	R	V
X	U	F	C	I	R	I	J	J	K	P	R	E
S	B	G	U	T	N	S	V	O	E	A	O	H
I	C	A	D	E	R	K	A	F	J	S	P	N
Z	D	J	O	L	L	A	B	A	C	U	Ñ	O
A	T	I	E	V	J	L	O	N	T	A	R	P
G	X	V	A	Z	S	L	A	N	Z	A	T	S